



Министерство образования и науки Самарской области

# **Об изменениях минимального первичного балла ОГЭ в 2022 году**

02.03.2022



# Минимальные первичные баллы ОГЭ в 2022 году

Русский язык



15

Математика



8

Из них 2 балла за  
модуль «Геометрия»

Информатика и  
ИКТ



5

Биология



13

География



12

Иностранные  
языки




29

БЕЗ ИЗМЕНЕНИЙ  
МИНИМАЛЬНОГО  
ПЕРВИЧНОГО БАЛЛА  
В СРАВНЕНИИ с 2019 г.



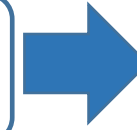
## МИНИМАЛЬНЫЕ ПЕРВИЧНЫЕ БАЛЛЫ СОКРАТИЛИСЬ

История



11

Обществознание



14

В 2022 году предлагается одна модель КИМ- линейная  
 Количество заданий сокращено с 35 до 24.  
**Первичный балл сократился с 13 до 11 баллов.**  
**Максимальный первичный балл сократился с 44 до 37.**  
 Введены новые задания на работу с исторической картой, а также включены три задания с кратким ответом (15-17) по всеобщей истории (истории зарубежных стран)

Количество заданий сокращено с 31 до 24.  
**Первичный балл сократился с 15 до 14 баллов**  
**Максимальный первичный балл сократился с 39 до 37.**  
 Усилена аналитическая составляющая КИМ. В КИМ добавлены 4 задания с развернутым ответом (1, 5, 6,12)

15 Участником какого из перечисленных событий, процессов был М. Лютер? Укажите порядковый номер этого события или процесса.

Ответ:

16 В ходе какого из перечисленных событий, процессов происходила осада Орлеана? Укажите порядковый номер этого события или процесса.

Ответ:

17 К какому событию или процессу имеет непосредственное отношение данный исторический источник? Укажите порядковый номер этого события, процесса.

«Неудобства всякого рода, происходящие от нашей связи с Англией, неисчислимы. Долг наш по отношению к самим себе и к человечеству вообще побуждает нас порвать эту связь. В самом деле, вследствие зависимости от Англии или даже в силу простой политической связи с ней, мы невольно впускаемся в разные войны и раздоры, происходящие в Европе...»

Одним словом, и соображения о наших правах, и соображения о наших удобствах должны побуждать нас к отделению от Англии. И голос правды и вопли убитых кричат нам: пора отделиться!»

Ответ:

1 Какие два из перечисленных понятий используются в первую очередь при описании политической сферы общества?

*Страта; доход; власть; демократия; собственность.*

Выпишите соответствующие понятия и раскройте смысл любого одного из них.

Ответ запишите на бланке ответов № 2, указав номер задания.

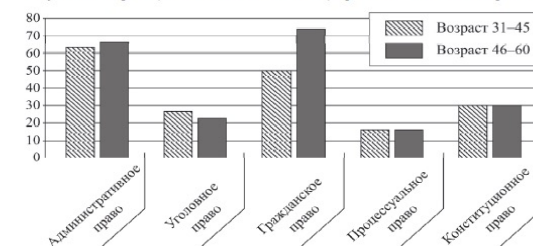
5 Рассмотрите фотографию.



Какой вид экономической деятельности осуществляют члены семьи? Используя обществоведческие знания, факты социальной жизни и личный социальный опыт, сформулируйте два правила рационального осуществления этой деятельности и кратко поясните каждое из правил. Ответ запишите на бланке ответов № 2, указав номер задания.

6 Совершеннолетнему Роману Р. пришло SMS-сообщение от неизвестного абонента: «Уважаемый клиент! Ваша карта заблокирована, была попытка несанкционированного снятия денег. Для возобновления пользования счётном сообщите по телефону \*\*\* данные по Вашей карте: № и PIN-код. В ближайшее время вопрос будет решён. Банк Д.» В чём состоит опасность данной ситуации для личных финансов Романа Р.? Как ему правильно поступить в данной ситуации? Ответ запишите на бланке ответов № 2, указав номер задания.

12 В ходе социологических опросов совершеннолетних жителей страны Z им предложили определить, знание каких отраслей права больше всего нужно человеку (не юристу по специальности). (Можно было дать несколько ответов.) Результаты опроса (в % от числа отвечающих) представлены на гистограмме.




Сформулируйте по одному выводу: а) о сходстве; б) о различии в позициях групп опрошенных. Выскажите предположение о том, чем объясняются указанные Вами: а) сходство; б) различие. Ответ запишите на бланке ответов № 2, указав номер задания.



## УВЕЛИЧЕНИЕ МИНИМАЛЬНОГО ПЕРВИЧНОГО БАЛЛА

Физика



11

Количество заданий сокращено с 26 до 25.

**Первичный балл увеличился с 10 до 11 баллов**

**Максимальный первичный балл увеличился с 40 до 45 баллов**

Увеличилось число заданий с развернутым ответом: добавлена еще одна качественная задача.

Расширилось задание № 17 (экспериментальное задание). К проведению косвенных измерений добавлено исследование зависимости одной физической величины от другой, включающее **не менее трех прямых измерений с записью абсолютной погрешности**

17 Используя штатив с муфтой и лапкой, пружину, динамометр с пределом измерения 5 Н, линейку и набор из трёх грузов по 100 г каждый, соберите экспериментальную установку для исследования зависимости силы упругости, возникающей в пружине, от степени растяжения пружины. Определите растяжение пружины, подвешивая к ней поочередно один, два и три груза. Для определения веса грузов воспользуйтесь динамометром. Абсолютную погрешность измерения растяжения пружины с помощью линейки принять равной  $\pm 2$  мм, абсолютную погрешность измерения силы с помощью динамометра принять равной  $\pm 0,1$  Н.

В бланке ответов:

- 1) сделайте рисунок экспериментальной установки;
- 2) с учётом абсолютной погрешности укажите результаты измерения веса грузов и удлинения пружины для трёх случаев в виде таблицы (или графика);
- 3) сформулируйте вывод о зависимости силы упругости, возникающей в пружине, от степени растяжения пружины.

Химия



10

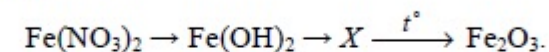
Количество заданий увеличилось с 23 до 24.

**Первичный балл увеличился с 9 до 10 баллов**

**Максимальный первичный балл увеличился с 38 до 40 баллов**

В часть 2 включено задание 21, направленное на проверку понимания существования взаимосвязи между различными классами неорганических веществ и сформированности умения составлять уравнение реакций, отражающих эту связь

21 Дана схема превращений:



Напишите молекулярные уравнения реакций, с помощью которых можно осуществить указанные превращения. Для первого превращения составьте сокращённое ионное уравнение реакции.



## УВЕЛИЧЕНИЕ МИНИМАЛЬНОГО ПЕРВИЧНОГО БАЛЛА

Литература

16

Количество заданий увеличилось с 3 до 5.

**Первичный балл увеличился с 12 до 16 баллов**

**Максимальный первичный балл увеличился с 33 до 45 баллов**

В 2022 году в структуре КИМ для участников предлагаются не варианты блоков заданий, а конкретные задания (1.1 или 1.2; 2.1 или 2.2; 3.1 или 3.2). Добавлено задание 2.1/2.2, требующее анализа самостоятельно выбранного фрагмента предложенного произведения в заданном направлении

- 2.1** Укажите другой фрагмент романа с участием Гринёва. Объясните, какие черты характера Гринёва проявились в выбранном Вами фрагменте.
- 2.2** Укажите другой фрагмент романа, в котором Гринёв попадает в ситуацию выбора. Объясните, какими жизненными принципами он руководствуется в сложившейся ситуации.